

TITUS CHAN **真** MARKET LEADER

地理

往年鐵證
全港最多
5**/5*/5學生#

絕不與通識科混合拍照



英皇教育
KING'S GLORY
EDUCATION



GEOGRAPHY
TITUS | AUTHENTIC

以防有大型連鎖補習社地理科導師刊出的純地理科5**/5*/5的獎學金大合照作比較。而根據大型連鎖補習社所發佈的宣傳單張，只有Titus Chan的獎學金大合照為純地理科5**/5*/5的考生。

你好，我是地理補習導師，TITUS CHAN。
今年起，我踏上另一段補習界的征途。在此宣布，我會改變補習生態的兩大改革。

① 摒棄「大補文化」，迎接「私補式」2.0補習服務

我由「大型補習社」(大補)出身，徹底了解「大補」文化的缺失和掣肘。補習形式需要革新、蛻變，進化成2.0的高階服務。「大補」並不等如「不貼心」，「私補」也不代表一定「貼心」，是否「貼心」服務從來只關乎於導師的教學模式。補習2.0是除了基本教學外，需要為門生提供持續評核、批改功課、逐一檢視各門生的學習進度。補習不再是導師在講壇上權威式的不停講解，只讓同學回家翻看筆記便有學習成效。所以由今年起，我結合「大補」和「私補」的特性，在教學上，既要求自己擁有私補的貼心，同時仍會保留「大補」權威的質素。

② 跨平台教學

我將不再隸屬某一補習社，你們將能在各大教育機構及網上平台報讀我的課堂。無論哪一間補習學校都不代表我，它們的格調和形象也不等同我的特色。「TITUS CHAN」就是自成一格的地理補習王牌——揀選最合你心意的上課模式，我將送上最優質的地理課程。

寫到最後，向我的門生作出一個基本承諾：「TITUS CHAN 教材的進步是永不止息的」。地理科考核的內容是年年在變。容我斗膽的說：我的筆記內容與編排，每每帶領全行，經常是我先寫什麼，別人只有跟著添加什麼。儘管心血付出比別人多數倍，但我沒有怨恨，只因獨領風潮，是我的榮幸。若然同學想繼續獲取全行最新的 Geography 考試內容和我那一套改造腦部思維教學，七月份起你會懂得選擇的。地理科勝利關鍵是資訊稀有性，當你摒棄教學書，能夠掌握全面資訊，就可輕易「一科救全家」入大學。今年起，我要重新定義「地理補習」。

Titus.





INTENSIVE 精 course 讀

2024-25

思維昇華 · 概念全清

優惠 1

新科報讀

減 \$200

新/舊生
適用

優惠 2

舊生帶1位新生

共減 \$600

新/舊生
適用

優惠 3

舊生帶2/3位新生

齊齊半價

新/舊生
適用

優惠 4

報得多慳得多

報讀指定精讀課程

2科減 \$150 / 3科減 \$300 / 4科減 \$500

無論新生或舊生，每期同時報指定精讀補習課程，均享優惠！
報讀5科或以上，每科扣減\$125

新/舊生
適用

優惠 5

舊生報讀

精讀課程 + 常規課程

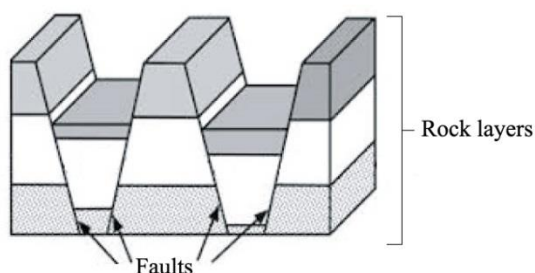
即減 \$200

常規舊生兼報相同導師的S6精讀課程，可獲一期常規課程減\$200

舊生
適用

MC#1 PAPER 1 C1 卷一 C1

Refer to the figure below which shows faulting.

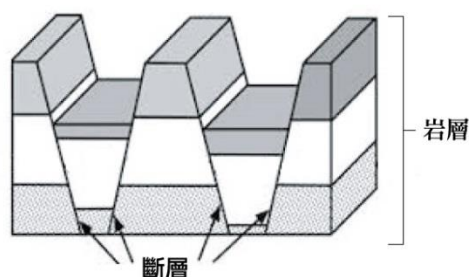


Which of the following is (are) the correct description(s) of the above figure?

- (1) occurrence of reverse fault
- (2) formed by normal force
- (3) horsts cannot be formed

- A. (1) only
- B. (2) only
- C. (1) and (3) only
- D. (2) and (3) only

參閱以下顯示斷層作用的圖片。




下列哪項是上圖的正確描述？

- (1) 出現逆斷層
- (2) 由張力形成
- (3) 未能形成地壘

- A. 只有(1)
- B. 只有(2)
- C. 只有(1)及(3)
- D. 只有(2)及(3)

MC#2 PAPER 1 C1 卷一 C1

Refer to the photograph below.



Which of the following pairs of comparison between material X and material Y related to volcanic activities in the photographs are correct?

	Material X	Material Y
(1) Type	pyroclastic flow	mudflow
(2) Dispersion	affected by wind direction	affected by surface runoff
(3) Dispersion	global cooling	loss of properties

- A. (1) and (2) only
- B. (1) and (3) only
- C. (2) and (3) only
- D. (1), (2) and (3)

參閱以下照片。



下列哪些有關照片中與火山活動有關的X物質與Y物質的比較是正確的？

	X物質	Y物質
(1) 類別	火山碎屑流	泥流
(2) 擴散	受風向所影響	受地表徑流所影響
(3) 影響	全球變冷	財產損失

- A. 只有(1)及(2)
- B. 只有(1)及(3)
- C. 只有(2)及(3)
- D. (1)、(2)及(3)

MC#3 PAPER 1 C2 卷一 C2

Which of the following comparisons between upper course and lower course is (are) correct?

下列哪項/哪些有關河流上游與下游的比較是正確的？

	Upper Course	Lower Course
(1) Erosive Power	stronger	weaker
(2) Channel Depth	deeper	shallower
(3) Mean Velocity	lower	higher

	上游	下游
(1) 侵蝕能力	較強	較弱
(2) 河道深度	較深	較淺
(3) 平均流速	較低	較高

- A. (1) only
- B. (3) only
- C. (1) and (2) only
- D. (2) and (3) only

- A. 只有(1)
- B. 只有(3)
- C. 只有(1)及(2)
- D. 只有(2)及(3)

MC#4 PAPER 1 C2 卷一 C2

Which of the following factors will increase the erosive power of the river at the middle course?

下列哪些因素會增加中游的河流侵蝕能力？

- (1) snowmelt at the upper course
- (2) rainstorm at the middle course
- (3) construction of HEP station at the upper course

- (1) 上游融雪
- (2) 於中游出現暴雨
- (3) 於上游建設水力發電站

- A. (1) only
- B. (1) and (2) only
- C. (2) and (3) only
- D. (1), (2) and (3)

- A. 只有(1)
- B. 只有(1)及(2)
- C. 只有(2)及(3)
- D. (1)、(2)及(3)

MC#5 PAPER 1 C5 卷一 C5

Refer to the photograph below.

參閱以下照片。



Which of the following descriptions about the farming system shown in the above photograph are correct?

下列哪些有關以上照片所示農業系統的描述是正確的？

- (1) high labour productivity.
- (2) high yield per hectare.
- (3) low land input.

- (1) 勞工生產力高
- (2) 每公頃產量高
- (3) 土地投入少

- A. (1) and (2) only
- B. (2) and (3) only
- C. (1) and (3) only
- D. (1), (2) and (3)

- A. 只有(1)及(2)
- B. 只有(2)及(3)
- C. 只有(1)及(3)
- D. (1)、(2)及(3)

多項選擇題 謬誤知識真偽辨別測試

(限時：每條約20秒)

哪句是對？哪句是錯？

YOUR ANSWER

圈出來吧



肯定正確



肯定錯誤

1

As the Pacific Plate as an oceanic crust is subducted under the South American Plate as a continental crust, the frequency of earthquake is very high in Chile in South America.

南美洲智利的地震頻仍，是由於屬海洋地殼的太平洋板塊俯衝至屬大陸地殼的南美洲板塊。

CORRECT
肯定正確

INCORRECT
肯定錯誤

2

The higher the bifurcation ratio, the higher the risk of flooding of the stream will be.

河流的分汙率越高，其氾濫的機會越大。

CORRECT
肯定正確

INCORRECT
肯定錯誤

3

The river valley at the lower course is in very wide U-shaped.

下游河谷的形狀呈非常闊U形。

CORRECT
肯定正確

INCORRECT
肯定錯誤

4

One of the major causes for the shift of iron and steel industries from raw material-orientation to market-orientation from 1980's is the environmental policies of the central government.

中國鋼鐵業八十年代起由原料導向改變為市場導向，其中一個原因是中央政府的環保政策。

CORRECT
肯定正確

INCORRECT
肯定錯誤

5

New town development is a part of urban sprawl in Hong Kong.

新市鎮的發展屬於香港城市延伸（城市蔓延）的一部分。

CORRECT
肯定正確

INCORRECT
肯定錯誤

6

New town development may control urban encroachment in certain extent.

新市鎮發展某程度上可能控制城市蠶食。

CORRECT
肯定正確

INCORRECT
肯定錯誤

多項選擇題 謬誤知識真偽辨別測試

(限時：每條約20秒)

哪句是對？哪句是錯？

YOUR ANSWER
圖出來吧



肯定正確



肯定錯誤

7

Farming constraints in the Southern California include infertile and saline soil, high evapotranspiration rate, water shortage and absence of streams.
南加州的農業限制包括貧瘠和鹽化的土壤、高蒸散率、缺水和缺乏河道存在。

CORRECT
肯定正確

INCORRECT
肯定錯誤

8

One of the environmental constraints for the limited growth of undergrowth in rainforests is waterlogging and infertile soil.
令底層植物有限生長的環境限制之中，其中一項是積水和貧瘠的土壤。

CORRECT
肯定正確

INCORRECT
肯定錯誤

9

The global dimming induced by air pollution offsets the increasing rate of global warming.
空氣污染引致的全球變暗抵銷了全球增溫的增幅。

CORRECT
肯定正確

INCORRECT
肯定錯誤

10

Overhead sun can possibly take place (be located) in Hong Kong.
當頭日能夠於香港出現。

CORRECT
肯定正確

INCORRECT
肯定錯誤

11

Duration of daylight in South China with high annual mean temperature is longer than that of in North China with lower annual mean temperature throughout the year.
華南的年平均溫度較高，它的日照時間全年均較年平均溫度較低的華北地區為長。

CORRECT
肯定正確

INCORRECT
肯定錯誤

12

Not 100% solar radiation (insolation) is absorbed by the earth's surface, as over half of the short-wave radiation is directly reflected to the space.
並非100%太陽輻射（日射）能夠被地球表面吸收，是因為有超過一半以上的短波輻射直接被反射回太空。

CORRECT
肯定正確

INCORRECT
肯定錯誤

《FBQ考察為本題能力測試》

你有信心取得題目的 全滿分嗎？

YOUR STATUS
你的水平是？



有信心
取得
全分



可取得
>50%
分數



只能取得
<50%
分數

1	Identify the sampling method (e.g. stratified sampling) the group members used shown in Figure 1a. Explain their choice on the sampling method. (4 marks) 辨別圖1a所顯示組員使用的抽樣方法(如：分層抽樣)。解釋他們抽樣方法的選擇。(4分)	4分 全取	2-3分	0-1分
2	What are the merits and demerits of using online map to study the distribution of farmlands in Kam Tin? (4 marks) 使用網上地圖去研究錦田耕地分佈時有哪些優點和缺點？(4分)	4分 全取	2-3分	0-1分
3	Explain how the group members can improve the validity and accuracy of this study on soil fertility of different farms. (6 marks) 解釋組員在研究不同農場的土壤肥沃度時如何改善其真實性及準確度？(6分)	6分 全取	3-5分	0-2分
4	Explain why the location shown in Figure 1a is suitable (or not suitable) for farming study. (4 marks) 解釋為什麼圖1a所顯示的區位適合(或不適合)作農業研究。(4分)	4分 全取	2-3分	0-1分
5	Why do the students use scatter diagram to show the correlation between the two variables instead of using Spearman's rank correlation coefficient? (4 marks) 為什麼同學使用散佈圖去顯示兩個變項的相關性，而不採用史皮爾曼相關係數？(4分)	4分 全取	2-3分	0-1分
6	Discuss how the choice of time, day and location by the students to carry out the fieldwork study may affect the reliability and feasibility of the farming study. (6 marks) 討論學生所選擇實地考察的時間、日子和區位如何可能影響農業研究的可靠度及可行性。(6分)	6分 全取	3-5分	0-2分
7	Suggest other instruments the students may use to take measurement on soil texture of farmlands. (3 marks) 建議學生可以使用其他哪些工具去量度耕地的土壤質地。(3分)	3分 全取	2-5分	0-1分
8	Using your geographical knowledge, explain the hypothesis (increasing abandoned farmlands from increasing distance from main roads) which has been accepted. (4 marks) 利用你的地理知識，解釋已被接納的假設(與公路主線距離越遠，棄耕地數量越多)。	4分 全取	2-3分	0-1分

SAMPLE

★PAPER D 丁部★

SHORT-ESSAY QUESTIONS 短文章式題目

卷一C1

Account for the similar distribution of strong earthquake and active volcanic eruption in the world. Discuss the role of the government of less developed countries in affecting vulnerability of population resided in the earthquake-prone regions.

說明全球強烈地震和活躍火山爆發的近似分佈。討論欠發達國家的政府對影響聚居在這些地震頻生地區人口的脆弱性的角色。

SAMPLE

★PAPER D 丁部★

SHORT-ESSAY QUESTIONS 短文章式題目

卷一C6

Describe the favourable environment for plantations and commercial cattle ranching in rainforests. Discuss why the interruption of the plantations on the nutrient cycle in rainforests is less severe than that of commercial cattle ranching.

描述有利雨林來進行大農場農業及商業性肉牛放牧的有利環境。討論為何大農場較商業性肉牛放牧對養分循環的的干擾相對較不嚴重。

SAMPLE

★PAPER D 丁部★

SHORT-ESSAY QUESTIONS 短文章式題目

卷二E1

Explain how the physical factors affect the distribution of landslides in Hong Kong. Evaluate the effectiveness of geotechnical engineering works in preventing their occurrence on natural slopes.

解釋自然因素如何影響山泥傾瀉在香港的分布。評估土力工程對阻止它們於自然坡面出現的效度。

SAMPLE

★PAPER D 丁部★

SHORT-ESSAY QUESTIONS 短文章式題目

卷二E4

Explain the relationship of these recent conflicts with economic reform policies and agricultural activities in the Zhujiang Delta in recent two decades. Discuss the effectiveness of the development of agricultural enterprises in alleviating these conflicts.

解釋近二十年珠江三角洲的經濟改革政策與農業活動的衝突。討論農業企業的發展對緩減以上衝突的效度。

欲獲取上述题目的詳盡建議答案 及其餘超過80條必中題目，
歡迎報讀 **INTENSIVE PLAN A** 2個月的課程。

INTENSIVE 皇牌課程

報 讀 指 南

一月
開始

S6
應屆考生
/重讀生

A
第一至四期

必報課程
INTENSIVE PLAN A

皇牌

精讀(卷一必修+卷二選修)
貼題。應用。無敵技巧
ALL-IN-ONE課程

15堂送2堂
網上課堂

課程編號:
INTENSIVE
PLAN A

皇牌

S1

補充課程
INTENSIVE PLAN S
(第1期)

答題寫作技巧課程
ANSWERING WRITING SKILL

4堂

課程編號:
INTENSIVE
PLAN S 第一期

S2

補充課程
INTENSIVE PLAN S
(第2期)

地圖閱讀課程
MAP READING SKILL

6堂

課程編號:
INTENSIVE
PLAN S 第二期

Y

補充課程
INTENSIVE PLAN Y

E1 動態地球 Dynamic Earth
整全知識傳授。歷屆試題分析
REGULAR重溫版

9堂

課程編號:
INTENSIVE
PLAN Y

Y

補充課程
INTENSIVE PLAN Y

E2 天氣與氣候 Weather and Climate
整全知識傳授。歷屆試題分析
REGULAR重溫版

9堂

課程編號:
INTENSIVE
PLAN Y

Z

補充課程
INTENSIVE PLAN Z

E4 珠江三角洲區域研習
Regional Study of Zhujiang Delta
整全知識傳授。歷屆試題分析

4堂

課程編號:
INTENSIVE
PLAN Z

TITUS
CHAN

報讀
TITUS
課程
的原因

2
0
1
0
-
2
0
1
9



成果有保證 百分百真實成績表

地理市場 真領導!

絕非「地理」+「通識」大合照
也絕不包括只應考模擬試的考生
獎學金準則較其他同科導師 **絕不相同**

信事實
FACT

往年



TITUS地理真5**/5*軍團##

##以防有大型連鎖補習社地理科導師刊出的純地理科5**/5*/5的獎學金大合照作比較。而根據大型連鎖補習社所發佈的宣傳單張，只有Titus Chan的獎學金大合照為純地理科5**/5*/5的考生。



爆班 真與假



爆



爆

爆



爆



“爆班源於口碑勝過別人!”



爆



爆強
貼中

智囊
團

有指每年貼中是因為TITUS
與**公開考試機構**舊同事
獲取**內幕情報**

請不要抹殺我本身
的教學能力及過往
所付出的努力!

擁有
極強戰績
的TITUS



- 詳盡應屆DSE試題預測
- 題目類型詳盡分析
- 重點課題高效能解構
- 地圖技巧及統計學不求人



PLAN A 終極精讀 (第1至4期)

貼題 · 應用 · 無敵技巧 ALL-IN-ONE

約15堂
再加送2堂

要比較過，才補我！

COME ON JAMES,
你真心相信

最後1日 精華筆記
最後1小時 精華筆記
最後1分鐘 精華筆記
最後1秒鐘.....

不齊全內容無法應付MC知識DETAIL位，
乜都漏的內容也絕不能讓你作答講求詳盡的ESSAY

對你考試有冇屁用?!

V.S.

THAT'S WHY 大量歷屆
TITUS DSE 門生 只靠

框架大全

便順利奪5/5*/5**而回!

瞞騙你的心理容易，真正了解你真正需要，非人人做到。



PLAN A 終極精讀(第1至4期)

貼題 · 應用 · 無敵技巧 ALL-IN-ONE

約15堂
再加送2堂

謬誤

MISCONCEPTION

· 詳列公開試MC陰人位 > 380項

95% TITUS 5**門生及
約96% TITUS 5** / 5*門生
均有報讀INTENSIVE

PLAN A全期#

時事

HOT ISSUE

TIP盡過往3年香港、中國及世界所有未出題的熱門時事

技能

ALL-ROUND SKILLS

註釋圖(ANNOTATED DIAGRAM)、照片詮釋、答題思維(吹水)、撞喺MC答案、統計圖繪畫及各項計數技能

框架

FRAMEWORK

TITUS著名框架思考法，減少背誦，陌生題目也可滿分

趨勢

TREND

· 大熱趨勢出題可能性
· DSE從未出過的POSSIBILITIES



PLAN A 終極精讀 (第1至4期)

貼題 · 應用 · 無敵技巧 ALL-IN-ONE

*一次過報齊4期Intensive
限時優惠 \$3100

(*詳情可到報名處查詢)

約15堂
再加送2堂
網上課堂



一月下旬開課

LESSON 1-3

第一期

LESSON 4-7

第二期

LESSON 8-11

第三期

LESSON 12-16

第四期

一個價錢最多可選擇
兩個選修課題

四月中旬

FINAL 2 LESSONS

(最少約2.5-3小時)

FREE

C1	機會與風險	Opportunities and Risks	
C2	管理河流和海岸環境	Managing Rivers and Coastal Environments	
C3	轉變中的工業區位	Changing Industrial Location	
C4	可持續發展的城市	Building a Sustainable City	
C5	對抗饑荒	Combating Famine	
C6	消失中綠色樹冠	Disappearing Green Canopy	
C7	氣候變化	Climate Change	
E1	動態地球	Dynamic Earth	2堂
E2	天氣與氣候	Weather and Climate	2堂
E3	運輸	Transport	1堂
E4	珠江三角洲區域研習	Regional Study of Zhujiang (Pearl River) Delta	1堂
SKILL	統計學技巧大全 (必須要上)		1堂
	試前各項提示 (必須要上)		1堂

卷一
必修

卷二
選修

全卷
技巧



網上課堂1 終極SQ貼題選輯 (卷一及卷二)

網上課堂2 終極ESSAY貼題選輯 (卷一及卷二)



PLAN A 終極精讀 (第1至4期)

貼題 · 應用 · 無敵技巧 ALL-IN-ONE

約15堂
再加送2堂

獨家派發

01

卷一
C1-C7
MC
謬誤大全

《公開試MC
陰人謬誤大全》
>380項

02

卷一
C1-C7
獨家
MOCK
QUESTIONS
卷二
E1-E4
獨家
MOCK
QUESTIONS

精製
《SQ+ESSAY
題目大全》
>80條

03

地理
統計學
技巧大全

《速畫統計圖畫
方法大全》
>12項
《統計計算技巧》
>10項

04

彩色照片
PHOTOGRAPH
詮釋大全

精選
Past
Paper
選輯

各課 >12項
《照片及衛星圖片詮釋
及辨別技能大全》
《精選大熱翻炒PAST
PAPER選輯》
11課

*一次過報齊4期Intensive

限時優惠 \$3100

(*詳情可到報名處查詢)



PLAN A 終極精讀(第1至4期)

貼題 · 應用 · 無敵技巧 ALL-IN-ONE

約15堂
再加送2堂



各班長期 **爆滿**

往年精讀班各班爆滿，實力和口碑的見證！

INTENSIVE PLAN A

課程編號: G6GEOGTCU

分校	星期	上課時間	模式	開課日期	學費
旺角校 MK1A	FRI	7:25pm	L	17/1	第1期(3堂) \$690*
ONLINE VIDEO LEARNING PLATFORM (ONL)			ONLINE	由25/1開始	第2-4期(各4堂) \$920*

符號 L = Titus Chan 全現場任教 (Live)
符號 ONL = 全Online課堂(Online Video Learning Platform) 並由Titus Chan 提供視像教材。
整期4堂筆記可在報名分校領取。由於筆記數量有限，如分校筆記已派完，同學可由報名日起約5日到報名分校取筆記。或申請順豐到付服務。詳情請向報名處查詢

***一次過報齊4期Intensive
限時優惠 \$3100**

(*詳情可到報名處查詢)

(*詳情可到報名處查詢)

新科目
減\$200

報得多慳得多
2科減\$150
3科減\$300
4科減\$500

新生+舊生
帶1位新生
共減\$600
帶2/3位新生
齊齊半價

精讀課程 + 常規課程
舊生常規班
減\$200

S1 答題寫作技巧課程

ANSWERING WRITING SKILL

4堂

S2 MAP-READING地圖閱讀課程

6堂

7種題型。段落構造。
還原基本步。框架思考法

人家教你拆題下而上揣摩答案
我教你出題上而下掌握一切

只因

TITUS CHAN 為全行極罕有之曾任職公開考試機構
之補習導師，富深厚之擬卷和閱卷工作經驗

	TITUS CHAN 地圖閱讀課程	其他補習社名師 地圖閱讀課程
良心	附送彩色地圖達 60 張以上， 不必另外購買習作！	家長及學生須自費近百元 購買習作
配套	13 項地圖閱讀技巧精華筆記 + 實戰 20 年 PAST PAPER	缺乏系統性筆記 只操近年 PAST PAPER
配套	由出卷過程推論出 高速做Map-reading MC 技能， 1條 MC 平均不必花超過 30 秒！	按每一步驟循規蹈矩教授 該題目繁複之處理方法

S1 答題寫作 技巧課程

課程編號: G6GEO9TCS
(共4堂)

ONLINE VIDEO LEARNING
PLATFORM (ONL)

每堂視像教材，已經全數上載。
同學只須在取得筆記後，登入本校網站收看課堂。

\$920

S2 MAP- READING

課程編號: G6GEO9TCS
(共6堂)

VIDEO LEARNING PLATFORM
(VPS)

每堂視像教材，已經全數上載。
同學只須在取得筆記後，登入本校網站收看課堂。

\$1380

符號 ONL = 全Online課堂(Online Video Learning Platform)並由Titus Chan提供視像教材。
整期4堂筆記可在報名分校領取。
由於筆記數量有限，如分校筆記已派完，同學可由報名日起約5日到報名分校取筆記，或申請順豐到付服務，詳情請向報名處查詢

符號 ONL = 全Online課堂(Online Video Learning Platform)並由Titus Chan提供視像教材。
整期4堂筆記可在報名分校領取。
由於筆記數量有限，如分校筆記已派完，同學可由報名日起約5日到報名分校取筆記，或申請順豐到付服務，詳情請向報名處查詢

新科目
減\$200

報得多慳得多
2科減\$150
3科減\$300
4科減\$500

新生+舊生
帶1位新生
共減\$600
帶2/3位新生
齊齊半價

精讀課程 + 寫紙課程
舊生常規班
減\$200

(*詳情可到報名處查詢)

與INTENSIVE PLAN A的
教授內容完全不同

PLAN Y 動態地球 Dynamic Earth

整全知識傳授 · 歷屆試題分析 · REGULAR重溫版

1
對象

沒有報讀TITUS常規E1課程的考生

2
對象

校內考試E1題目表現不理想的考生

3
對象

唔識寫E1的ESSAY的考生



派發

整全
精華筆記

歷屆試題
全集及
分析

SAMPLE
ESSAYS
由TITUS
親自編寫



2019年ESSAY試題：

描述沉積岩(sedimentary rocks)
轉變成變質岩(metamorphic rocks)，
你能夠抄教科書抄到6段出來嗎？

2019年ESSAY試題問及到植林(afforestation)
能否改善坡面穩定性，你能從坊間教科書或其他
補習社筆記找到6項或以上理據嗎？

Plan Y
動態地球

課程編號: G6GEO9TCY
(2期, 第1期4堂、第2期5堂)

ONLINE VIDEO LEARNING
PLATFORM (ONL)

每堂視像教材，已經全數上載。
同學只須在取得筆記後，登入本校網站收看課堂。

第1期4堂
\$920

第2期5堂
\$1150

符號 ONL = 全Online課堂(Online Video Learning Platform)並由Titus Chan提供視像教材。
整期4堂筆記可在報名分校領取。
由於筆記數量有限，如分校筆記已派完，同學可由報名日起約5日到報名分校取筆記，或申請順豐到付服務，詳情請
向報名處查詢

新科目
減\$200

報得多慳得多
2科減\$150
3科減\$300
4科減\$500

新生+舊生
帶1位新生
共減\$600
帶2/3位新生
齊齊半價

報讀
課程 +
附加
課程
舊生常規班
減\$200

(*詳情可到報名處查詢)

與INTENSIVE PLAN A的
教授內容完全不同

PLAN Y 天氣與氣候 Weather and Climate

整全知識傳授 · 歷屆試題分析 · REGULAR重溫版

1
對象

沒有報讀TITUS常規E2課程的考生

2
對象

校內考試E2題目表現不理想的考生

3
對象

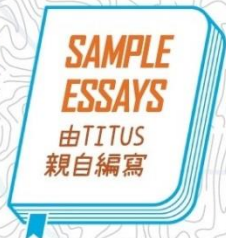
唔識寫E2的ESSAY的考生



2018年ESSAY題目：

比較中國北部與南部的降雨特徵·你能
在教科書找得6個比較點嗎？

派發



Plan Y
天氣與氣候

課程編號: G6GEO9TCY
(2期·第1期4堂·第2期5堂)

ONLINE VIDEO LEARNING
PLATFORM (ONL)

每堂視像教材·已經全數上載。
同學只須在取得筆記後·登入本校網站收看課堂。

第1期4堂
\$920

第2期5堂
\$1150

符號 ONL = 全Online課堂(Online Video Learning Platform)並由Titus Chan提供視像教材。
整期4堂筆記可在報名分校領取。
由於筆記數量有限·如分校筆記已派完·同學可由報名日起約5日到報名分校取筆記·或申請順豐到付服務·詳情請
向報名處查詢。

新科目
減\$200

報得多慳得多
2科減\$150
3科減\$300
4科減\$500

新生+舊生
帶1位新生
共減\$600
帶2/3位新生
齊齊半價

精讀+常規
舊生常規班
減\$200

(*詳情可到報名處查詢)

ANSWER PART 1			PART 2					
MC #1	MC #2	MC #3	#1	#2	#3	#4	#5	#6
B	D	B	INCORRECT	INCORRECT	INCORRECT	INCORRECT	INCORRECT	INCORRECT
MC #4	MC #5		#7	#8	#9	#10	#11	#12
B	D		INCORRECT	INCORRECT	CORRECT	CORRECT	INCORRECT	INCORRECT

與INTENSIVE PLAN A的
教授內容完全不同

PLAN Z 珠江三角洲區域研習

Regional Study of
Zhujiang(Pearl River) Delta

整全知識傳授 · 歷屆試題分析

1
對象

沒有報讀TITUS常規E4課程的考生

2
對象

校內考試E4題目表現不理想的考生

3
對象

唔識寫E4嘅ESSAY的考生

E4

Regional Study of Zhujiang(Pearl River)Delta

珠江三角洲區域研習

難度：★★★★☆

題目創新度：★★☆☆☆

名校生都犯的謬誤

(欲知更多，堂上定必傾囊相授)

- 1 各階段工業發展的特徵
- 2 珠三角工業特徵的框架
- 3 各階段農業發展
- 4 農業生產模式的框架
- 5 各類跨境污染的分佈
- 6 各項控制污染措施的效度

派發

整全
精華筆記

歷屆試題
全集及
分析

SAMPLE
ESSAYS
由TITUS
親自編寫

Plan Z 珠江三角洲 區域研習

課程編號: G6GEO9TCZ

(4堂+1堂送堂 = 共5堂)

ONLINE VIDEO LEARNING
PLATFORM (ONL)

每堂視像教材，已經全數上傳。
同學只須在取得筆記後，登入本校網站收看課堂。

\$860

符號 ONL = 全Online課堂(Online Video Learning Platform)並由Titus Chan提供視像教材。

整期4堂筆記可在報名分校領取。

由於筆記數量有限，如分校筆記已派完，同學可由報名日起約5日到報名分校取筆記，或申請順豐到付服務。詳情請向報名處查詢

新科目
減\$200

報得多慳得多
2科 減\$150
3科 減\$300
4科 減\$500

新生+舊生
帶1位新生
共減\$600
帶2/3位新生
齊齊半價

舊生常規班
減\$200

(*詳情可到報名處查詢)

地理=TITUS

補習界極罕有曾任職

公開考試機構

經驗和能力完勝全行



IG個人帳戶 Follow

chantitusgeog



IG個人帳戶 Follow

hkdse.geog



 **GEOGRAPHY**
TITUS | AUTHENTIC

WhatsApp 熱線



6976 7698

(如遇爆滿或報讀課程疑難，可WHATSAPP文字／留言查詢)



6515 0505



www.kge.hk



KGE hk



KGE hk



英皇教育

九龍灣校

EDB290211/290220

旺角校

EDB527904/527912

沙田校

EDB605000

荃灣校

EDB290211/290220

銅鑼灣校

EDB526739

元朗 特許上課點

(非報名中心)
EDB289078

大埔 特許上課點

(非報名中心)
EDB610933